



CONSTRUÏM LA NOSTRA IDENTITAT



SANTA EULÀRIA
DES RIU

6^è

NOM:

LLINATGES:

ESCOLA:





EL POBLE DE SANTA EULÀRIA DES RIU



Benvingut a Santa Eulària des Riu. Aquest poble es troba al est de l'illa d'Eivissa i és un dels municipis que, juntament amb la ciutat d'Eivissa i els municipis de Sant Josep de sa Talaia, Sant Antoni de Portmany, Sant Joan de la Britja i Formentera abarquen tot el territori de les Pitiüses.

Activitat 1

Marca al mapa la teua escola i el camí que has hagut de fer per a arribar a Santa Eulària.



Ara encercla els altres municipis que hi ha a l'illa de Eivissa.





EL PLÀNOL

Aquí tens un plànol de la part del poble que visitareu en aquesta excursió. El dibuixant no ha senyalat el nord. Amb l'ajuda de la brúixola indica els punts cardinals a la rosa dels vents.



Activitat 1

Al llarg d'aquesta excursió, hauràs de assenyalar en aquest plànol el recorregut que fareu i situar els elements que treballaràs en aquest quadern.





L'AJUNTAMENT DE SANTA EULÀRIA DES RIU

L'ajuntament és el major organ de govern d'un municipi i a la vegada és el govern més proper als ciutadans. Està presidit per un alcalde que juntament amb regidors de cada àrea formen el plè municipal que pren les decisions de govern.



Activitat 2

Quins elements ornamentals hi ha a la façana de l'edifici que ens indiquin que estem davant d'un ajuntament?

La funció oficial de l'edifici està escrita a la façana. Què posa i què vol dir?

Pots identificar les banderes que hi ha icades a la façana de l'ajuntament?





Activitat 3

Amb l'ajuda dels plafons que trobaràs a l'entrada de l'edifici, contesta les següents preguntes:


Quines poblacions formen part del municipi de Santa Eulàlia?
Sabries nombrar algun monument de cada població?

POBLE					
MONUMENT					

Activitat 4

Preguntant al personal de l'ajuntament, esbrina a on se'u
cada membre del plè municipal?

- L'alcalde
- el 1r tinent d'alcalde
- el 2n tinent d'alcalde
- Els regidors de l'equip de govern
- Els regidors de l'oposició.



Quants de regidors formen l'equip de govern?





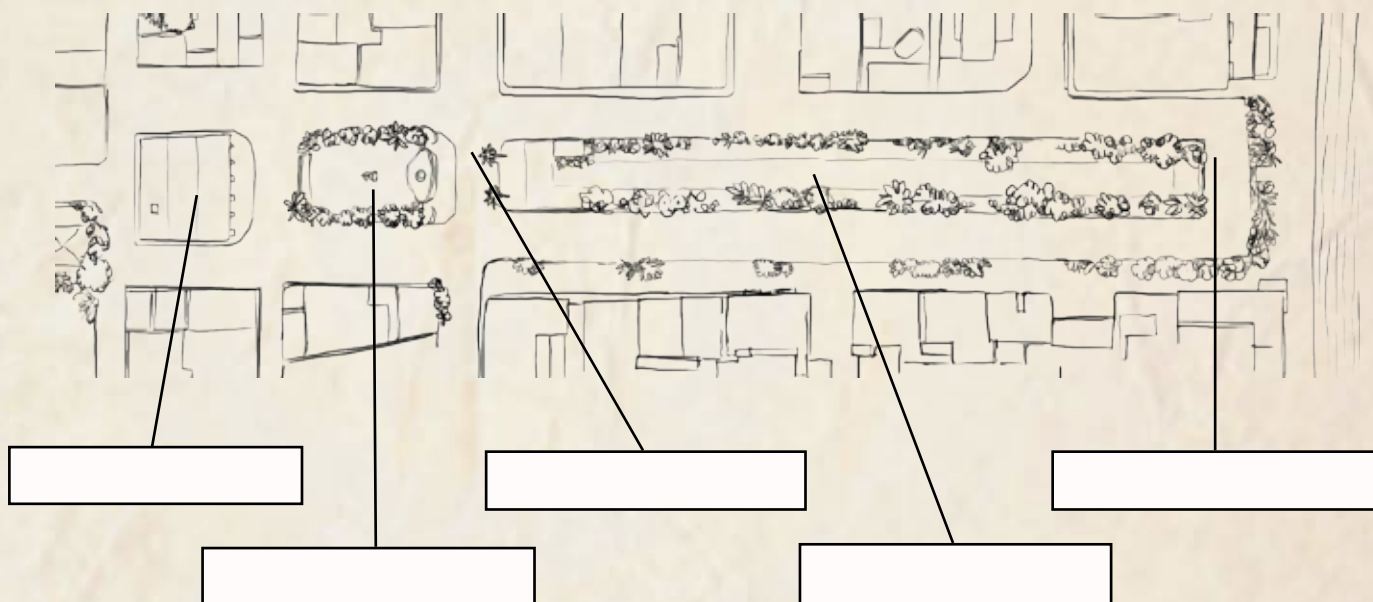
EL PASSEIG DE S'ALAMERA I EL CARRER SANT JAUME

El Passeig de s'Alamera i el carrer Sant Jaume són els dos eixos principals del poble de Santa Eulàlia.

Activitat 5

Aquí tens una vista aèria de s'Alamera, orienta't i localitza els diferents elements del municipi que s'indiquen completant els recuadres en blanc.

Monument naufragi del vapor Mallorca - Ajuntament - Carrer Sant Jaume - Font de baix - Passeig de s'Alamera



RACO DES BARRUGUET - ES BROLL DE S'ALAMERA

El poble de Santa Eulària va ser el primer a tenir aigua corrent aprofitant del riu fent servir-hi sèquies i canals. Una d'aquestes sèquies portava aigua a una font pública situada al centre del poble, en la intersecció del carrer major amb s'Alamera i era coneguda com es Broll.

Els anys '30 del segle XX, aquest Font esdevingué ornamental. En l'actualitat i gairebé en el mateix lloc hi ha una altra font que substitueix l'original.





LA PLATJA DE SANTA EULÀRIA

Santa Eulària del Riu és un poble amb platja. L'ajuntament ha dotat aquesta platja urbana amb un seguit de infraestructures i serveis per tal que els ciutadans en puguin gaudir amb comoditat i seguretat.

Activitat 6

Identifica i localitza al dibuix els serveis que s'indiquen a sota.

Escola de vela - Escales - Torre de vigilància
Caseta primers auxilis






LA PLAÇA ISIDOR MACABICH I EL TEATRE ESPANYA

Activitat 7

La glorieta que hi ha al mig de la plaça té tres elements destacables: Què són?

Qui va trobar aquest canó i a on?

A quin vaixell pertanxia aquest canó i qui el comandava?



Observa amb atenció l'escut del canó. Quins emblemes té?

A qui pertanyia aquest escut d'armes?



Activitat 8



El teatre Espanya va obrir les seves portes l'any 1929 per iniciativa de tres habitants del poble de Santa Eulàlia.

L'any 2007 l'Ajuntament el va comprar i restaurar.

Als anys 30, al teatre Espanya s'hi organitzaven balls i concerts, però també tenia un altre ús. A la façana posterior de l'edifici en trobaràs la resposta. completa el cartell.

Quin ús se l'hi dona avui dia?





AVALUACIÓ

Activitat 1

Uneix amb fletxes les banderes i amb el nom que els corresponen.

EIVISSA

ILLES BALEARS

ESPANYA

COMUNITAT EUROPEA



Activitat 2

Busca a la següent sopa de lletres el nom dels diferents pobles que formen part del municipi de Santa Eulària.

S	A	N	T	A	G	E	R	T	R	U	D	I	S
U	C	T	A	U	R	C	B	O	R	U	H	E	S
J	T	X	E	I	F	O	I	S	E	C	S	U	E
P	U	I	G	D	E	N	V	A	L	L	S	I	S
G	A	U	A	T	J	J	I	N	T	K	A	T	A
E	I	V	S	S	A	B	R	T	R	O	N	U	N
D	U	M	Z	I	K	A	L	M	O	R	T	A	T
J	O	U	F	O	R	A	D	A	S	O	A	T	C
S	U	J	K	C	I	K	L	T	K	K	A	T	A
O	A	E	C	C	U	K	U	E	S	O	G	A	R
S	H	S	R	J	I	I	K	U	C	R	N	R	L
O	R	U	C	U	U	O	L	S	K	I	E	A	E
U	K	S	R	I	S	K	U	O	K	R	S	J	S

Activitat 3

Digues si aquestes afirmacions són vertaderes o falses:

	Vertader	Fals
A la façana de l'ajuntament hi ha tres banderes		
L'alcalde és el màxim responsable de l'ajuntament		
El canó està situat al passeig de S'alamera		
La platja de Santa Eulària està al nord del municipi		

