



CONSTRUÏM LA NOSTRA IDENTITAT



4^{rt}

NOM: _____

LLINATGES: _____

ESCOLA: _____









Puig de Missa

Activitats


1. Durant el recorregut pel Puig de Missa passaràs per diferents carrers i cases.

Pinta de color blau els següents carrers: Passeig del Marqués de Lozoya, el carrer Can Taltavuit, la Plaça de d'església, el carreró de Cas Mossènyer.

A continuació pinta de color groc el Museu Etnogràfic (Can Ros), de blanc l'església, de groc el Museu Barrau i de taronja la casa Suïssa.

2. Tenint com a brúixola la rosa dels vents contesta:

- Estàs davant de l'església, què tens a l'oest?
- Estàs d'esquena al Museu Barrau, què tens al nord?
- Estàs al Museu Etnològic, què tens a l'est?






Vista des del mirador
(Calcar foto plafó informatiu)

Activitats

1. Al puig de Missa trobaràs un panell informatiu amb una vista panoràmica feta des del mirador. Situa i escriu en el dibuix els següents noms: Horts del riu, molí de Baix, torre de Can Marge, Molí d'Enmig, Font den Lluna, Pont Vell, Pont Nou, Puig d'en Fita, desembocadura del riu, Font des Ierns, Torrent des Ierns

2. Pinta en la fotografia que pertany als anys 60': de color blau les carreteres, de color vermell les construccions i de color verd els horts.

Toni: aquí hi aniria dibuix de la foto del panell en blanc i negre.





Es Riu

Activitats

1. Pinta de color blau el recorregut des riu, de color taronja es Puig de Missa.





Activitats

1. Escriu sobre el plànol de la planta de l'edifici etnològic a quin tema està dedicat cada sala des museu. Aquí aniria el dibuix de la planta del Museu etnològic.

2. De quin material estan fets els següents objectes:

fusta Icona metall

ceràmica A quina sala des museu es troba?

castanyoles

Llibrell

Capoladora

Càvec


Cossi

Carro

3. Posa el nom a les diferents parts que formen es trull.

Pica- arbret- rotló- perxa- jàssena- torn-infern - cofins

Dibuixos des Trull: Dibux fotocòpia llibre d'en Palermet i dibuix drpbx.





Activitats:

1. A l'entrada de l'església trobaràs un plànol de la planta. Fixa't i escriu a la teva fitxa el nom que correspon a cada part de l'edifici. Planta església penjada al drpbx.

2. A prop de l'església hi ha un panell amb la planta de l'església i les diferents etapes en que es va construir.

Al dibuix de la planta que tens al quadernet pinta: de color blau les parts construïdes a mitjans del s. XVI, de color groc les parts construïdes a finals del s. XVI, de color verd les parts que pertanyen a principis del s. XVIII i per últim de color vermell les parts construïdes entre els segles XVIII-XX.

3. Uneix amb fletxes els següents termes amb la seva definició.

Nau sostre arquejat

Capella Part d'una església que s'obre al fons de la nau central. de planta poligonal o semicircular

Porxo Esglesiola annexa a una església més gran.

Absis A les esglésies rurals és un espai cobert, de planta rectangular adossats just davant la porta principal d'accés al temple, encara que també s'hi poden trobar als laterals.

Volta

Espai longitudinal comprès entre murs, arcades o fileres de columnes en un edifici.

4. A l'interior de l'església hi ha una talla de fusta de Santa Eulària. Busca-la i situa-la en el plànol de la planta.





AUTOAVALUACIÓ

Activitat 1. Marca amb una X vertader o fals.

Vertader Fals

Al Puig de Missa hi ha un carrer que es diu Marqués de Corona.

El Museu Barrau és davant l'església.

La Plaça de l'església és circular.

El museu etnològic es troba a l'avinguda Marqués de Lozoya.

Activitat 2. Busca 6 paraules relacionades i emplena les frases

I	E	R	N	S	X
G	X	I	A	B	S
M	I	U	M	A	H
A	C	U	F	U	F
R	K	P	P	C	A
G	E	X	O	L	U
E	O	H	N	E	D
V	L	T	T	I	

1. Torrent des
2. Horts del
3. Molí de
4. Vell
5. d'en Fita
6. Torre de Can

Activitat 3. Llegeix les següents descripcions que corresponen a diferents parts d'un trull i emplena els quadres amb les lletres adients.

1. Gran plat fet de pedres on es posen ses olives
2. Tronc vertical que va fins el sostre
3. Pedra ampla i circular

